

Фамилия, имя, класс Соханев Никита 11 класс

Шифр
Р-1104

2850

Шифр
Р-1104

**Всероссийская олимпиада школьников по географии. 2023-2024 учебный год.
Школьный этап. 11 класс**

Начинать работу можно с любого задания, однако, мы рекомендуем выполнять задания в том порядке, в котором они даны. Если какое-то задание вызывает у вас затруднение, пропустите его и постарайтесь выполнить те, в ответах на которые вы уверены. К пропущенным заданиям можно будет вернуться, если у вас останется время.

Общее время выполнения работы - 135 минут

Максимальная сумма баллов – 62

Во время выполнения заданий не допускается использование атласов и других источников информации.

Теоретический тур

Задание 1. (3 балла)

Название какого острова, в переводе означающее «Зелёная земля» или «Зелёная страна», противоречит его природным особенностям? Гринландия |

Почему на его юго-западном побережье климат не так суров, как на остальной части, и летом растёт зелёная трава?

Менее высокие горы |

Назовите страну, которой принадлежит этот остров. Дания |

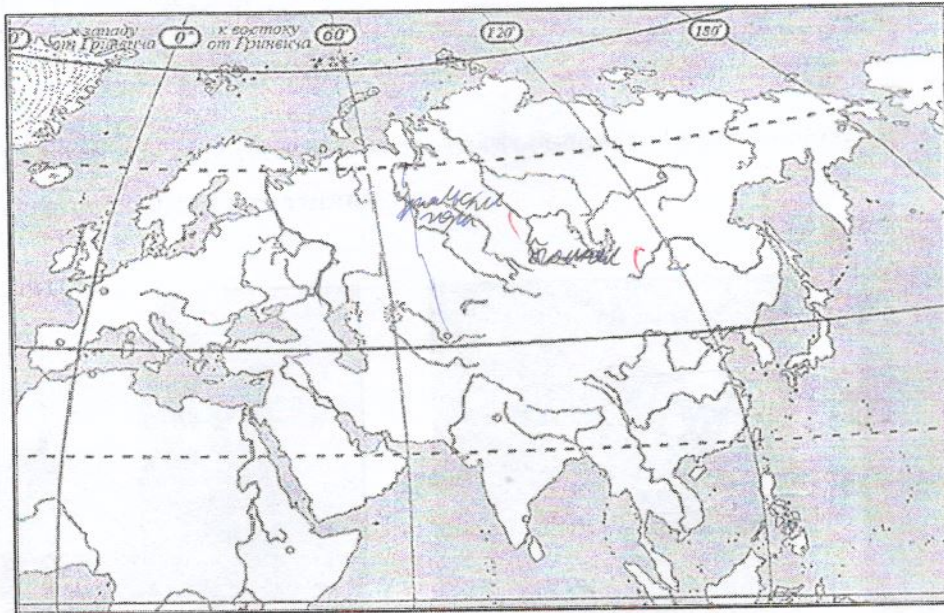
Задание 2. (13 баллов)

Вспомните природные рекорды России. На контурной карте Евразии надпишите названия географических объектов-рекордсменов России:

- самой длинной горной системы
- самой высокой горной системы (можно обозначить цифрой и расшифровать)
- самой длинной реки, бассейн которой полностью находится в России
- самой многоводной реки
- крупнейшего полуострова
- самого большого и глубокого моря у берегов России
- самого высокого действующего вулкана

-крупнейшего острова

-самого глубокого озера



Какие субъекты Российской Федерации омывает самое глубокое озеро?

На территории какого субъекта РФ находится крупнейший полуостров?

На территории какого субъекта РФ находится самый высокий действующий вулкан?

Тулунская область - Камчатка

Задание 3. (9 баллов)

1) Дополните таблицу, соотнося перечисленные в списке современные и старые, прежние названия городов: Архангельск, Новосибирск, Калинин, Горький, Улан-Удэ, Владикавказ, Симбирск, Свердловск, Волгоград, Киров, Краснодар, Куйбышев.

№	Современные названия городов	Прежние названия городов
1	Ульяновск	Киевский 0
2	Самара	Горький 0
3	Нижний Новгород	Куйбышев 0
4	Тверь	Курск 0
5	Екатеринбург	Свердловск 0
6	Волгоград	Сталинград, Царицын
7	Улан-Удэ + Владикавказ 0	Вятка, Хлынов
8	Улан-Удэ 0	Орджоникидзе, Дзауджикау
9	Краснодар	Екатеринодар

10	Новосибирск	1	Новониколаевск
11	Иркутск	0	Верхнеудинск
12	Сургут	0	Новые Холмогоры


2) Напишите современные названия городов (из числа включённых в таблицу), в которых установлены эти памятники.



1. Памятник


Афанасию Никитину

1. Нижний Новгород
2. Санкт-Петербург
3. Великий Новгород



2. Памятник

Петру I



3. Монумент

«Родина-мать зовёт!»

Задание 4. (16 баллов)

1. В каждом из двух списков найдите и выпишите по 7 понятий (это элементы духовной и материальной культуры, имена, представители органического мира и т.п.), относящихся к одной стране. Определите страны.

1) Сари, хинди, Тадж-Махал, птица киви, Рабиндранат Тагор, рупия, Хоккайдо, «Махабхарата», гора Кука, Махатма Ганди, синтоизм, Акира Куросава

хинди, Махатма Ганди, синтоизм, рупия, Махабхарата, Сари, Тадж-Махал,

Страна Индия

2) Суоми, маори, Хельсинки, Лапландия, Веллингтон, Ян Сибелиус, иена, саамы, гаттерия, «Калевала», Инариярви, танка

Суоми, Хельсинки, Ян Сибелиус, Инариярви, танка, гаттерия, Ульмская, маори

Страна Япония

4,5

2. Слова, оставшиеся в обоих списках, объедините, а затем разделите на две группы и укажите названия островных государств, с которыми эти понятия связаны.

1)

Хавайцы, Акира Курисова

Островное государство Япония

2)

Островное государство _____

Задание 5. (5 баллов)

Дополните таблицу, записав в соответствующую графу страны из списка, размещённого ниже.

Страны-лидеры по площади лесов (2015 г.)

Место	Страна	Площадь лесов, млн га	Лесистость, % от территории страны	Доля от площади лесов мира, %
1	<u>Россия</u>	815	47	20
2	<u>США</u>	494	58	12
3	<u>Канада</u>	347	35	9
4	<u>Индия</u>	310	32	8
5	<u>Китай</u>	208	22	5
6	<u>Бразилия</u>	153	65	4
7	<u>Индонезия</u>	125	16	3
8	<u>Перу</u>	91	50	2
9	<u>ДРК</u>	74	58	2
10	<u>Австралия</u>	71	22	2

Страны: Индия, США, Канада, Россия, Индонезия, Бразилия, Австралия, Китай, Демократическая Республика Конго, Перу

Тестовый тур

На каждый вопрос даны четыре варианта ответов.

Выберите только один правильный и внесите его в матрицу ответов.

Максимально 16 баллов, по 1 баллу за каждый правильный ответ.

1. Какая страна является монархией?
 а) Пакистан б) Молдавия в) Нидерланды г) Финляндия
2. Выберите город с наибольшей численностью населения:
 а) Саратов б) Самара в) Сыктывкар г) Салехард
3. Выберите верное утверждение:
 а) Российский участок Вислинской косы называют Балтийской косой.
 б) Балтийская коса длиннее Куршской косы.
 в) На Балтийской косе нет дюн.
 г) Российский участок Вислинской косы называют Куршской косой.
4. Выберите верное утверждение о реке Неман:
 а) Река Шешупе является притоком Немана.
 б) Неман впадает в Калининградский залив.
 в) Исток Немана находится в Калининградской области.
 г) На Немане расположен город Черняховск.
5. Какой город Калининградской области расположен севернее?
 а) Нестеров б) Черняховск в) Гусев г) Славск
6. В Южной Америке расположено государство:
 а) Боливия б) Ботсвана в) Ливия г) ЮАР
7. Муссонные дожди часто вызывают наводнения на реке:
 а) Енисей б) Хуанхэ в) Дунай г) Тигр
8. Как называется высшая точка Уральских гор?
 а) Победа б) Казбек в) Народная г) Белуха
9. Для какой природной зоны характерны каштановые почвы?
 а) лесостепь б) тайга
 в) широколиственные леса г) сухая степь
10. Какая страна носила название Золотой Берег?
 а) Бенин б) Гана в) Буркина-Фасо г) Кот-Д'Ивуар
11. Если годовое количество осадков составляет 700 мм, а испаряемость – 300 мм, каким является увлажнение?
 а) избыточное б) недостаточное в) достаточное г) скудное
12. Выберите народ, представители которого исповедуют буддизм.
 а) якуты б) чувашаи в) башкиры г) буряты
13. В каком регионе густота железных дорог наибольшая?
 а) Калужская область б) Республика Коми
 в) Республика Калмыкия г) Красноярский край

14. Выберите атомную электростанцию.

- а) Сургутская б) Курская в) Красноярская г) Иркутская

15. Какое из утверждений о Бразилии является НЕверным?

- а) Государственным языком в стране является португальский.
б) Большая часть электроэнергии в стране производится на ГЭС.
в) Столица является крупнейшим по численности населения городом страны.
г) Одной из главных статей экспорта Бразилии является кофе.

16. В какой стране доля детей в общей численности населения наибольшая?

- а) Польша б) Канада в) Кения г) Германия

Матрица для записи ответов

1	2	3	4	5	6	7	8	9	10
в +	д +	з -	з -	д -	з -	д +	з -	д -	д +

11	12	13	14	15	16
з -	д -	з -	а -	д -	в +

~~55~~