

Фамилия, имя, класс Мешков Павел 9

Шифр
P-9010

Шифр
P-9010

325

Всероссийская олимпиада школьников по географии. 2023-2024 учебный год.

Школьный этап. 9 класс

Начинать работу можно с любого задания, однако, мы рекомендуем выполнять задания в том порядке, в котором они даны. Если какое-то задание вызывает у вас затруднение, пропустите его и постарайтесь выполнить те, в ответах на которые вы уверены. К пропущенным заданиям можно будет вернуться, если у вас останется время.

Общее время выполнения работы - 135 минут

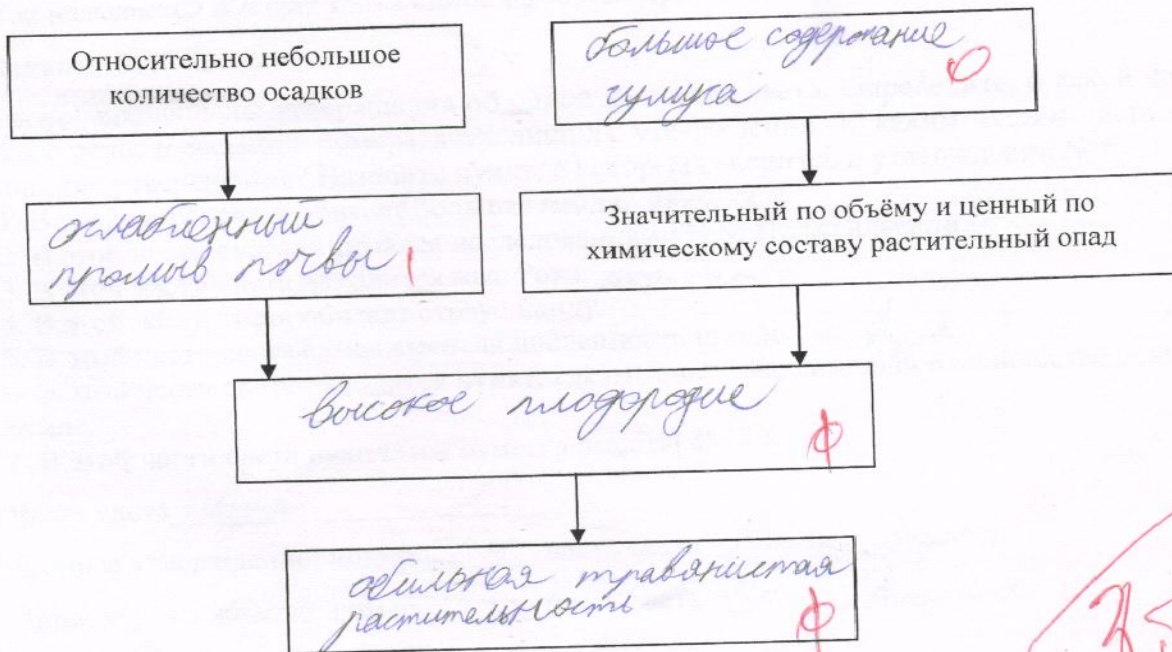
Максимальная сумма баллов - 64

Во время выполнения заданий не допускается использование атласов и других источников информации.

Теоретический тур

Задание 1. (4 балла)

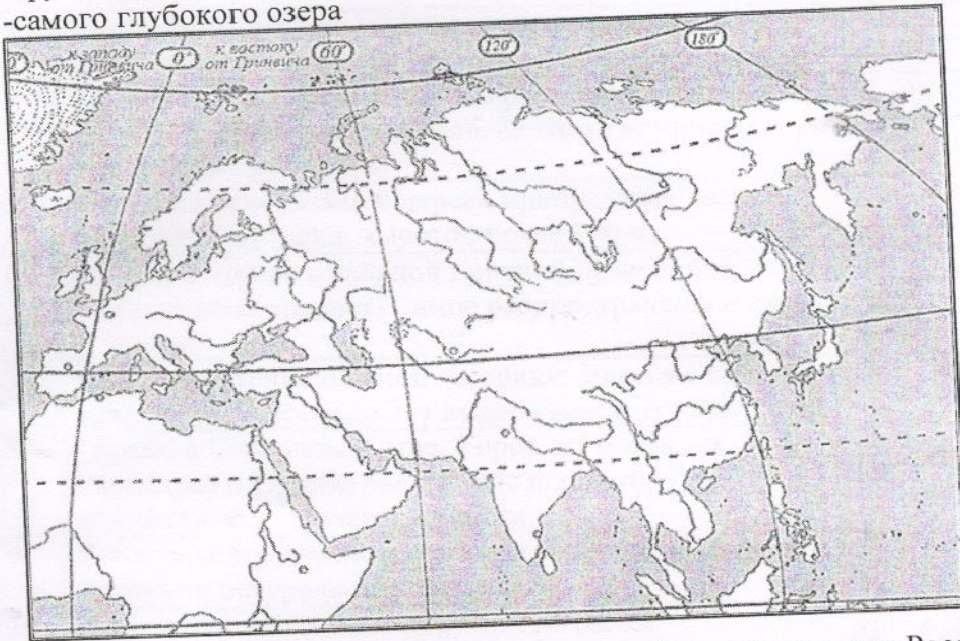
Дополните схему, объясняющую причины высокого естественного плодородия чернозёмов. В рамках разместите следующие словосочетания: большое содержание гумуса; высокое плодородие, ослабленный промыв почвы; обильная травянистая растительность.



Задание 2. (10 баллов)

Вспомните природные рекорды России. На контурной карте Евразии надпишите названия географических объектов-рекордсменов России:

- самой длинной горной системы
- самой высокой горной системы (можно обозначить цифрой и расшифровать)
- самой длинной реки, бассейн которой полностью находится в России
- самой многоводной реки
- крупнейшего полуострова
- самого большого и глубокого моря у берегов России
- самого высокого действующего вулкана
- крупнейшего острова
- самого глубокого озера



Как называется высшая точка самой высокой горной системы России? Эльбрус 15.

Задание 3. (6 баллов)

Ниже перечислены утверждения об одной из частей света. Определите, о какой части света идёт речь, и укажите номера двух лишних утверждений. К каким частям света относятся лишние утверждения? Назовите пункт, о котором говорится в утверждении № 6.

1. В этой части света обитает большая панда. Азия |
2. В этой части света занимался исследованиями Н.М.Пржевальский.
3. В этой части света находится мыс Рока. Африка |
4. В этой части света обитает страус нанду.
5. В этой части света самая высокая численность населения. Азия |
6. В этой части света находится пункт, где отмечено максимальное количество осадков на Земле.
7. В этой части света находится отметка высоты 8848 м.

Часть света Азия |

Лишнее утверждение: номер 4

часть света Южная Америка |

Лишнее утверждение: номер 3


часть света Южная Америка |

Пункт Черамунджи |

Задание 4. (12 баллов)

1) Дополните таблицу, выбрав названия растений из списка: секвойя, вельвичия, виктория, раффлезия, лиственница, эвкалипт, саксаул, ковыль, криптомерия, женьшень, маньчжурский орех, гевея. Названия растений, не включённых в таблицу, подпишите под фотографиями.

№	Некоторые особенности растений	Названия растений
1	Вечнозелёное дерево, типичное для Австралии. Из листьев получают масло, применяемое в медицине.	Эвкалипт
2	Название этого травянистого растения в переводе с китайского языка означает «корень жизни», «человек-корень». Препараты из корня – тонизирующее средство.	Женьшень
3	Многолетняя трава, относящаяся к злаковым и распространённая в степях.	Ковыль
4	Древесное или кустарниковое растение пустынь Азии, хороший закрепитель песков. Зелёные веточки – корм для верблюдов и овец.	Саксаул
5	Вечнозелёное хвойное дерево прибрежных лесов Северной Америки, высотой более 100 м.	Секвойя
6	Хвойное дерево с твёрдой прочной древесиной. Осенью хвоя опадает. Самое распространённое дерево в России.	Лиственница
7	Водное растение Южной Америки. Листья с загнутыми краями диаметром до 2 м выдерживают груз до 50 кг.	Виктория
8	Дерево в Северном Китае, Корее, в России – в Приморье и Приамурье. Плоды используют в кондитерской промышленности.	Маньчжурский орех
9	Вечнозелёное дерево родом из тропической Америки, источник натурального каучука.	Гевея
10	Вечнозелёное хвойное дерево. Считается национальным символом Японии.	Криптомерия



А) раффлезия |



Б) Вельвичия |

120.

Задание 5. (16 баллов)

1. В каждом из двух списков найдите и выпишите по 7 понятий (это элементы духовной и материальной культуры, имена, представители органического мира и т.п.), относящихся к одной стране. Определите страны.

1) Сари, хинди, Тадж-Махал, птица киви, Рабиндранат Тагор, рупия, Хоккайдо, «Махабхарата», гора Кука, Махатма Ганди, кимоно, Акира Куросава

Страна _____

2) Суоми, маори, Хельсинки, Лапландия, Веллингтон, Ян Сибелиус, иена, саамы, гаттерия, «Калевала», Инариярви, хокку

Страна _____

2. Слова, оставшиеся в обоих списках, объедините, а затем разделите на две группы и укажите названия островных государств, с которыми эти понятия связаны.

1)

Островное государство _____

2)

Островное государство _____

Тестовый тур

На каждый вопрос даны четыре варианта ответов.

Выберите только один правильный и внесите его в матрицу ответов.

Максимально 16 баллов, по 1 баллу за каждый правильный ответ.

1. Выберите верное утверждение:

- а) Российский участок Вислинской косы называют Балтийской косой.
- б) Балтийская коса длиннее Куршской косы.
- в) На Балтийской косе нет дюн.
- г) Российский участок Вислинской косы называют Куршской косой.

2. Выберите верное утверждение о реке Неман:

- а) Река Шешупе является притоком Немана.
- б) Неман впадает в Калининградский залив.
- в) Исток Немана находится в Калининградской области.
- г) На Немане расположен город Черняховск.

3. В Южной Америке расположено государство:

- а) ЮАР
- б) Ботсвана
- в) Ливия
- г) Боливия

4. Муссонные дожди часто вызывают наводнения на реке:

- а) Енисей
- б) Хуанхэ
- в) Дунай
- г) Тигр

5. Какой стране принадлежат Канарские острова?
 а) Марокко б) Португалия в) Алжир г) Испания
6. Какой остров раньше носил название Цейлон?
 а) Сахалин б) Исландия в) Шри-Ланка г) Хоккайдо
7. Как называется столица Канады?
 а) Монреаль б) Квебек в) Ванкувер г) Оттава
8. Выберите город с наибольшей численностью населения:
 а) Саратов б) Самара в) Сыктывкар г) Салехард
9. Как называется высшая точка Уральских гор?
 а) Победа б) Казбек в) Народная г) Белуха
10. Если годовое количество осадков составляет 700 мм, а испаряемость – 300 мм, каким является увлажнение?
 а) избыточное б) недостаточное в) достаточное г) скудное
11. Для какой природной зоны характерны каштановые почвы?
 а) лесостепь б) тайга
 в) широколиственные леса г) сухая степь
12. Как называется возвышенность, на которой берёт начало Днепр?
 а) Приволжская б) Смоленско-Московская
 в) Среднерусская г) Валдайская
13. Выберите верное утверждение:
 а) Верхоянский хребет относится к эпохе мезозойской складчатости.
 б) Кавказ относится к эпохе герцинской складчатости.
 в) Алтай относится к эпохе кайнозойской складчатости.
 г) Уральские горы относятся к эпохе каледонской складчатости.
14. Какой географический объект на карте России расположен восточнее других?
 а) Сихотэ-Алинь б) Яблонный хребет
 в) Восточный Саян г) Северные Увалы
15. На территории какого субъекта РФ находится Уссурийский заповедник?
 а) Магаданская область б) Хабаровский край
 в) Приморский край г) Амурская область
16. Выберите наиболее ранний период геологической истории Земли:
 а) кембрийский б) силурийский в) меловой г) пермский

Матрица для записи ответов

1	2	3	4	5	6	7	8	9	10
г-	б-	б-	а-	г+	б+	а-	б+	б+	а+

11	12	13	14	15	16
б-	а-	б-	г-	а-	б-

85.